

KOD ZDAJĄCEGO

<div style="border: 1px solid black; width: 100%; height: 30px; margin-bottom: 5px;"></div> <div style="border: 1px solid black; width: 100%; height: 30px; margin-bottom: 5px;"></div> <div style="border: 1px solid black; width: 100%; height: 30px;"></div> <p style="text-align: center; margin-top: 5px;">symbol klasy</p>	<div style="border: 1px solid black; width: 100%; height: 30px; margin-bottom: 5px;"></div> <div style="border: 1px solid black; width: 100%; height: 30px; margin-bottom: 5px;"></div> <div style="border: 1px solid black; width: 100%; height: 30px;"></div> <p style="text-align: center; margin-top: 5px;">symbol zdającego</p>
--	--

**PRÓBNY EGZAMIN MATURALNY
Z NOWĄ ERĄ**

**WIEDZA O SPOŁECZEŃSTWIE
POZIOM ROZSZERZONY**

Instrukcja dla zdającego

1. Sprawdź, czy arkusz egzaminacyjny zawiera **32** strony (zadania 1–33).
Ewentualny brak stron zgłoś nauczycielowi nadzorującemu egzamin.
2. Odpowiedzi zapisz w miejscu na to przeznaczonym przy każdym zadaniu.
3. Pisz czytelnie. Używaj długopisu/pióra tylko z czarnym tuszem/atramentem.
4. Nie używaj korektora, a błędne zapisy wyraźnie przekreśl.
5. Pamiętaj, że zapisy w brudnopisie nie będą oceniane.
6. Na tej stronie wpisz swój kod oraz imię i nazwisko.
7. Nie wpisuj żadnych znaków w części przeznaczonej dla osoby sprawdzającej.

Powodzenia!

STYCZEŃ 2021

**Czas pracy:
180 minut**

**Liczba punktów
do uzyskania: 60**

Zadanie 1. (0–1)

O JEDNYM ZE ZJAWISK SPOŁECZNYCH

Tekst 1. Według najbardziej ogólnej i najpowszechniej podzielanej przez badaczy i polityków definicji [...] [zjawisko to] oznacza, że dana jednostka lub jakaś grupa społeczna, będąc członkami wspólnoty (najczęściej chodzi o wspólnotę obywateli państwa), nie może uczestniczyć w pełni w ważnych dziedzinach życia tejże wspólnoty. [...] [Opisywane zjawisko] dotyczyć może pracy, konsumpcji, uczestnictwa w kulturze, życiu społeczności lokalnych i w polityce.

Źródło: *Diagnoza społeczna 2015. Warunki i jakość życia Polaków*, red. J. Czapiński, T. Panek, Warszawa 2015, s. 398.

Tekst 2. [...] rodzaj ograniczenia dla jednostek i grup w określonym porządku społecznym, ich gorsza pozycja w stosunku do dominującej struktury [...]. [Pojęcie] pozwala opisywać różne niekorzystne zjawiska społeczne i gospodarcze oraz ich skutki dla funkcjonowania jednostek i grup społecznych. [...] odwołuje się zarówno do sfery relacji społecznych, jak i [do] wymiaru strukturalnego: ograniczonego uczestnictwa w życiu społecznym czy utrudnionego dostępu do usług, ograniczonych praw [...] i możliwości wpływania i korzystania z podstawowych instytucji publicznych i rynków, które powinny być dostępne dla wszystkich.

Źródło: I. Kudlińska, [...] *jako perspektywa teoretyczno-badawcza (na przykładzie badań nad [...])*, „Acta Universitatis Lodzianis. Folia Sociologica” 2011, nr 38, s. 55–56, www.cejsh.icm.edu.pl [dostęp: 1.10.2020].

Podaj nazwę zjawiska społecznego, którego dotyczą przytoczone teksty.

.....

Zadanie 2. (0–1)

O JEDNEJ Z POSTAW SPOŁECZNYCH

W literaturze jest on odwrotnością pożytecznego działania. Działanie można uznać za pożyteczne, jeżeli jest stosowne oraz zachodzi w odpowiednim czasie i sprzyja. W przeciwieństwie do niego [...] [opisywana postawa] jest praktyką angażowania się w działania, które poświęcają zasady etyczne, by osiągnąć [...] korzyści kosztem innych. [...] to przekroczenie norm określonej relacji biznesowej poprzez zachowania, takie jak unikanie zobowiązań, korzystanie z luk prawnych umowy i wymaganie nieuczciwych ustępstw, gdy warunki rynkowe na to pozwalają. Jako taki [...] stanowi osobiste, społeczne i ekonomiczne wyzwanie dla relacji, obejmujące aktywność jednej strony, która jest bezpośrednio szkodliwa dla interesów drugiej strony.

Źródło: J. Karpacz, [...] *w relacjach międzyorganizacyjnych w teorii i praktyce*, „Prace Naukowe Uniwersytetu Ekonomicznego we Wrocławiu” 2014, nr 366, s. 237, www.dbc.wroc.pl [dostęp: 1.10.2020].

Zaznacz poprawne dokończenie zdania.

Scharakteryzowana w tekście postawa to

- A. konformizm.
- B. oportunizm.
- C. asertywność.
- D. altruizm.

Zadanie 3. (0–3)

O JEDNEJ Z GRUP SPOŁECZNYCH

[Haulersi to] dość wyspecjalizowana grupa vlogerów, którzy swoje filmowe kanały zapełniają tzw. zakupowymi haulami (*haul* to po angielsku „łup”). Zakupowy haul polega na tym, aby opowiedzieć przed kamerą, co kupiło się danego dnia – mogą to być kosmetyki, ubrania, dosłownie wszystko. Brzmi nudno i tak jest w istocie. Mimo to najpopularniejsi haulerzy zdobyli nawet 10 mln subskrybentów (dla porównania oficjalny kanał NASA ma ich 838 tys.), [...] są zatem atrakcyjnym nośnikiem reklamowym dla wszystkich firm, które eksplorują marketingowy potencjał nowych mediów.

Źródło: M. Piasecki, *Jakie są nowoczesne subkultury? Wybraliśmy te najbardziej zaskakujące*, www.focus.pl [dostęp: 1.10.2020].

3.1. Określ, jakiego rodzaju grupą społeczną są – w świetle podanych kryteriów – haulersi.

- A. sposób zorganizowania –
- B. dostępność –
- C. typ więzi związany z rodzajem przynależności –

3.2. Zaznacz poprawne dokończenie zdania.

Subkultura haulersów jest charakterystyczna dla społeczeństwa

- A. konsumpcyjnego.
- B. industrialnego.
- C. pierwotnego.
- D. otwartego.

Wypełnia sprawdzający	Nr zadania	1	2	3.1	3.2
	Maks. liczba pkt	1	1	2	1
	Uzyskana liczba pkt				

Zadanie 4. (0–1)

ŹRÓDŁO 1.



ŹRÓDŁO 2.

Fundacja na Rzecz Ochrony Praw Zwierząt EX LEGE została ustanowiona przez Fundatora, Panią Martę Włosek, która od lat aktywnie działa na rzecz ochrony praw zwierząt. Jako Prezes Fundacji, za swe wieloletnie osiągnięcia, została uhonorowana tytułem Człowieka Roku 2016 w kategorii „działalność społeczna” w plebiscycie „Dziennika Wschodniego”.

Źródło: www.fundacjaexlege.pl [dostęp: 1.10.2020].

Rozstrzygnij, czy przedstawiona organizacja należy do sektora finansów publicznych. Odpowiedź uzasadnij, odwołując się do źródeł.

Rozstrzygnięcie –

Uzasadnienie –

.....
.....
.....

Zadanie 5. (0–1)

ŹRÓDŁO 1. O RÓŻNYCH OBLICZACH POLSKIEGO PATRIOTYZMU

Etymologia słowa „patriotyzm” wskazuje na ojczyznę (*patria*). Nie wiąże się on bezpośrednio z życiem narodu, jest on postawą wobec ojczyzny. Dopiero kiedy pojawia się państwo narodowe, staje się ono rzecznikiem patriotyzmu narodowego. [...] Patriotyzm narodowy kształtował się w Polsce najpierw w sytuacji politycznej katastrofy, jaką była utrata państwa w okresie zaborów, a potem stawał się częścią odbudowy niepodległości państwowej po 1918 roku. Ponieważ II Rzeczpospolita nie była państwem narodowym, lecz państwem obywatelskim o zróżnicowanym składzie narodowościowym, w okresie międzywojnia dochodziło do konfrontacji patriotyzmu narodowego z republikańskim patriotyzmem obywatelskim. [...] Można rozumieć ojczyznę w sposób węższy jako materialną, kulturową i polityczną przestrzeń życia narodu. Można też ją rozumieć szerzej – jako Rzeczpospolitą, a więc przestrzeń ludzkiego rozwoju obywateli, reprezentujących różne narodowości, religie i światopoglądy.

Źródło: A.M. Wierzbicki, *Patriotyzm jest problemem*, www.wiez.com.pl [dostęp: 1.10.2020].

ŹRÓDŁO 2. O CELACH I DZIAŁALNOŚCI JEDNEJ Z ORGANIZACJI W POLSCE

Teraz coraz bardziej widzimy, że także patriotyzm jest słowem, które dobrze oddaje to, co robimy na co dzień. I chcemy o tym napisać w dniu, w którym w naturalny sposób myśli się o ojczyźnie. W rocznicę wybuchu Powstania Warszawskiego. We wrześniu minie 13 lat działalności Sieci Obywatelskiej Watchdog Polska. Nasza organizacja powstała po to, by w naszym kraju obowiązywały jasne zasady demokratyczne, a nie samowola rządzących. Podsumowaliśmy nasze najważniejsze wygrane sprawy sądowe i zobaczyliśmy, jaką Polskę budowaliśmy. [...] Mieliliśmy [...] wpływ na finanse publiczne. Braliśmy czynny udział w rozwoju wielkiej akcji społecznej, w której obywatelki i obywatele sprawdzają, jak wydawane są pieniądze. Chodzi o Publiczne Rejestry Umów [...]. Wszystko zaczęło się od sprawy warszawskiego radnego PiS, którego wspieraliśmy w sądzie. Potem zaś dużo pisaliśmy o akcji społecznej, wspierając jej rozwój.

Źródło: K. Batko-Tołuć, *Patriotyzm...*, www.siecobywatelska.pl [dostęp: 1.10.2020].

Rozstrzygnij, do którego typu patriotyzmu przedstawionego w źródle 1. nawiązuje opis zamieszczony w źródle 2. Odpowiedź uzasadnij, odwołując się do obu tekstów.

Rozstrzygnięcie –

Uzasadnienie –

.....

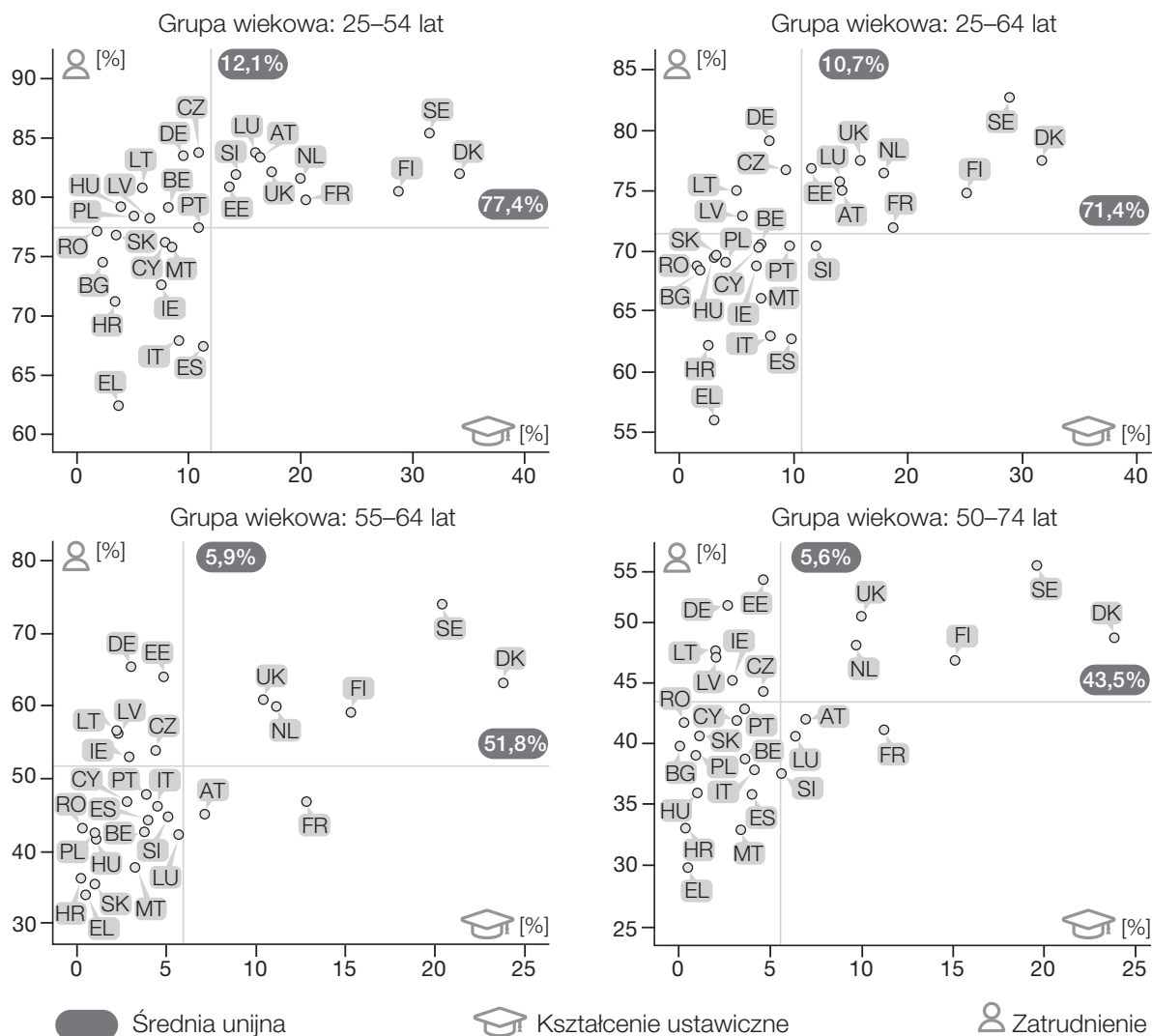
.....

.....

Wypełnia sprawdzający	Nr zadania	4	5
	Maks. liczba pkt	1	1
	Uzyskana liczba pkt		

Zadanie 6. (0–2)

WYKRESY. ODSETEK OSÓB KORZYSTAJĄCYCH Z KSZTAŁCENIA USTAWICZNEGO A POZIOM ZATRUDNIENIA W RÓŻNYCH GRUPACH WIEKOWYCH W WYBRANYCH PAŃSTWACH EUROPEJSKICH



AT – Austria, BE – Belgia, BG – Bułgaria, HR – Chorwacja, CY – Cypr, CZ – Czechy, DK – Dania, EE – Estonia, FI – Finlandia, FR – Francja, DE – Niemcy, EL – Grecja, HU – Węgry, IE – Irlandia, IT – Włochy, LV – Łotwa, LT – Litwa, LU – Luksemburg, MT – Malta, NL – Niderlandy, PL – Polska, PT – Portugalia, RO – Rumunia, SK – Słowacja, SI – Słowenia, ES – Hiszpania, SE – Szwecja, UK – Wielka Brytania

Źródło: E. Roszko-Wójtowicz, *Edukacja całożyciowa dorosłych obywateli w Unii Europejskiej w perspektywie Strategii Europa 2020*, „Edukacja Dorosłych” 2015, nr 2, s. 178, www.cejsh.icm.edu.pl [dostęp: 1.10.2020].

6.1. Sformułuj argument i kontrargument do tezy: „Uczenie się przez całe życie jest jednym z warunków stabilności ekonomicznej społeczeństw europejskich”. Odwołaj się do danych przedstawionych na wykresach.

Argument –

.....

.....

Kontrargument –

.....

.....

6.2. Sformułuj wniosek wynikający z porównania danych uzyskanych w Polsce, na Węgrzech i na Słowacji w grupie wiekowej 55–64 lat.

.....

.....

.....

.....

Zadanie 7. (0–1)

TABELA. POLACY WOBEC ZMIAN KLIMATU. WYNIKI BADANIA CBOS

Nie ma jednoznacznej zgody co do tego, co poszczególne kraje, w tym Polska, powinny zrobić w związku ze zmianami klimatu. Oto trzy stwierdzenia na ten temat. Proszę powiedzieć, które z nich jest najbliższe Pana/Pani poglądom.	Obecnie podstawowym surowcem energetycznym w Polsce jest węgiel kamienny. Czy, Pana/Pani zdaniem, w ciągu najbliższych 20–30 lat wytwarzanie energii w Polsce...		
	...powinno opierać się przede wszystkim na krajowych zasobach węgla kamiennego?	...powinno stopniowo odchodzić od energetyki opartej na węglu i rozwijać inne sposoby produkcji energii?	Trudno powiedzieć.
	w procentach		
Dopóki nie jesteśmy pewni, że zmiany klimatu są rzeczywiście problemem, nie należy podejmować żadnych kroków, które pociągałyby za sobą koszty gospodarcze.	29	60	11
Problemem zmian klimatu należy się zająć, ale jego skutki są rozciągnięte w czasie, więc środki zaradcze należy wprowadzać stopniowo, aby ograniczyć koszty.	22	73	5
Zmiany klimatu to poważny i pilny problem. Odpowiednie działania należy podjąć natychmiast, nawet jeżeli wiąże się ze znacznymi kosztami.	12	82	6
Trudno powiedzieć.	21	42	37

Źródło: Polacy wobec zmian klimatu. Komunikat z badań, CBOS, Warszawa 2018, s. 9, www.cbos.pl [dostęp: 1.10.2020].

Sformułuj zależność między stanowiskiem ankietowanych w kwestii przeciwdziałania zmianom klimatu a ich stosunkiem do energetyki opartej na węglu. W odpowiedzi odwołaj się do wyników badania.

.....

.....

.....

.....

Wypełnia sprawdzający	Nr zadania	6.1	6.2	7
	Maks. liczba pkt	1	1	1
	Uzyskana liczba pkt			

Zadanie 8. (0–2)

DOKUMENT SPRZEDAŻY

pieczęć firmy		Faktura		Nr 1/07/2017				
				2017-07-11 Data wystawienia				
				2017-07-11 Data sprzedaży				
Sprzedawca: Wioleta Bednarek Adres: NIP:			Nabywca: Biuro Rachunkowe Sp. z o.o. Adres: [...] NIP: [...]					
Sposób płatności: Przelew Termin płatności: 2017-07-25 Bank: Bank 2 Numer konta: [...]								
Lp.	Nazwa	Ilość	Jm	Cena netto	Wartość netto	Stawka VAT	Kwota VAT	Wartość brutto
1	produkt	1		185,19	185,19	23%	42,59	227,78
Tabela kursów średnich NBP nr 131/A/NBP/2017 z dnia 2017-07-10. Kurs waluty EUR: 4,2348				Razem:	185,19	X	42,59	227,78
				W tym:	185,19	23%	42,59	227,78
				VAT w PLN:		23%	180,36	
Razem do zapłaty: 227,78 EUR			Zapłacono: 0,00 EUR Pozostało do zapłaty: 227,78 EUR					

Źródło: www.pomoc.infakt.pl [dostęp: 1.10.2020].

8.1. Na podstawie dokumentu oceń, czy poniższe informacje są prawdziwe. Zaznacz P, jeśli informacja jest prawdziwa, albo F – jeśli jest fałszywa.

1.	Podatek wskazany w dokumencie sprzedaży należy do grupy podatków pośrednich.	P	F
2.	Uwzględniony podatek jest źródłem wpływów do budżetu państwa.	P	F
3.	W przedstawionej sprzedaży uwzględniono obniżoną stawkę podatkową.	P	F

8.2. Uzupełnij zdanie, wpisując właściwe rodzaje podmiotów prawa cywilnego.

Zgodnie z Kodeksem cywilnym w przedstawionej sytuacji sprzedawca produktu jest osobą (A), a nabywca – osobą (B)

Zadanie 9. (0–1)

PRZEPISY PRAWNE Z KONSTITUCJI RZECZYPOSPOLITEJ POLSKIEJ

Art. 227

1. [Jest] Centralnym bankiem państwa [...]. Przysługuje mu wyłączne prawo emisji pieniądza oraz ustalania i realizowania polityki pieniężnej. [...]
6. [...] ustala corocznie założenia polityki pieniężnej i przedkłada je do wiadomości Sejmowi równocześnie z przedłożeniem przez Radę Ministrów projektu ustawy budżetowej. [...] w ciągu 5 miesięcy od zakończenia roku budżetowego, składa Sejmowi sprawozdanie z wykonania założeń polityki pieniężnej.

Do każdego z zacytowanych ustępów z art. 227 dopisz pełną nazwę właściwego organu państwa.

Art. 227.1. –

Art. 227.6. –

Zadanie 10. (0–1)

TEKST 1. FRAGMENT PROGRAMU WYBORCZEGO JEDNEJ Z PARTII POLITYCZNYCH W POLSCE

Program „Własny kąt”

Dostęp do własnego lokum to dzisiaj olbrzymi problem dla polskich rodzin. Wielu z nich nie stać na zaciągnięcie kredytu na ten cel. Dlatego dla nich zapewnimy do 50 000 zł na wkład własny z budżetu, aby mogły zaciągnąć kredyt na pierwsze mieszkanie.

Praca dla młodych

Z programu skorzystają absolwenci szkół zawodowych, liceów i szkół wyższych, którzy nie ukończyli 30 lat. Budżet państwa pokryje koszt składek leżących po stronie pracodawcy, związanych z zatrudnieniem absolwenta na umowę o pracę.

Źródło: www.psl.pl [dostęp: 1.10.2020].

TEKST 2.

Redystrybucja dochodów – ingerowanie przez państwo w podział dochodów uzyskiwanych przez obywateli.

Źródło: www.sjp.pwn.pl [dostęp: 1.10.2020].

Rozstrzygnij, czy przedstawiony program zakłada realizację przez państwo funkcji redystrybucyjnej. Odpowiedź uzasadnij.

Rozstrzygnięcie –

Uzasadnienie –

.....
.....
.....

Wypełnia sprawdzający	Nr zadania	8.1	8.2	9	10
	Maks. liczba pkt	1	1	1	1
	Uzyskana liczba pkt				

Zadanie 11. (0–2)

ŹRÓDŁO 1. PRZEPISY PRAWNE Z KONSTITUCJI STANÓW ZJEDNOCZONYCH AMERYKI

Artykuł I

§ 2. [...] Izba Reprezentantów wybiera ze swego grona przewodniczącego i inne organy oraz ma wyłączne prawo stawiania przed Senatem wyższych funkcjonariuszy w stan oskarżenia.

§ 3. [...] Senat jest wyłącznie uprawniony do sądenia w sprawach, w których nastąpiło postawienie w stan oskarżenia przez Izbę Reprezentantów. [...] W razie oskarżenia prezydenta Stanów Zjednoczonych przewodnictwo obejmuje prezes Sądu Najwyższego. Orzeczenie skazujące wymaga większości dwu trzecich obecnych członków.

Wyrokiem zapadającym w tym trybie nie można orzec kary surowszej niż wydalenie z urzędu oraz utratę zdolności do przyjęcia i pełnienia w służbie Stanów Zjednoczonych jakiegokolwiek zaszczytnej funkcji honorowej lub odpłatnej. [...]

Poprawka XIV

§ 2. Liczba mandatów do Izby Reprezentantów zostaje rozdzielona między poszczególne stany odpowiednio do liczby mieszkańców, przy uwzględnieniu wszystkich mieszkańców stanu [...].

Poprawka XVII

Senat Stanów Zjednoczonych składa się z senatorów, wybieranych po dwu przez ludność każdego stanu na sześć lat. Każdemu senatorowi przysługuje jeden głos.

Źródło: www.libr.sejm.gov.pl [dostęp: 1.10.2020].

ŹRÓDŁO 2. O JEDNEJ Z ZASAD PRAWA WYBORCZEGO

Jednym z przedstawicieli prezentujących ten pogląd jest S. Sagan. Rozumie on równość przez wymienienie jej dwóch znaczeń: formalnej i materialnej. Równość formalną widzi on jako przydzielenie każdemu wyborcy takiej samej liczby głosów (np. po jednym, jak to ma miejsce w Polsce). Natomiast równość materialną przedstawia jako jednakową siłę głosu każdego wyborcy. Wiąże ją ściśle z odpowiednim podziałem kraju na okręgi wyborcze.

Źródło: T. Kowalczyk, *Znaczenie zasady równości prawa wyborczego w prawie polskim przed wejściem w życie Kodeksu wyborczego*, „Przegląd Prawa Konstytucyjnego” 2013, nr 2 (14), s. 121.

11.1. Podaj nazwę procedury scharakteryzowanej w art. I § 2 i § 3.

.....

11.2. Rozstrzygnij, czy wybory do Senatu USA przeprowadzane są zgodnie z zasadą równości materialnej. Odpowiedź uzasadnij.

Rozstrzygnięcie –

Uzasadnienie –

.....

.....

.....

Zadanie 12. (0–2)

O JEDNYM Z SYSTEMÓW WYBORCZYCH

W systemie proporcjonalnym okręgi są zawsze wielomandatowe, zaś wyborcy głosują nie na poszczególne osoby, ale na listy kandydatów przedstawione przez partie polityczne lub inne organizacje. Miejsca w parlamencie rozdziela się proporcjonalnie do liczby głosów zdobytych przez poszczególne listy. Podstawową zaletą systemu proporcjonalnego jest reprezentatywność. Nawet poglądy mniejszości, jeśli są reprezentowane przez stosowne ugrupowania polityczne, mają realną szansę na obecność w parlamencie. Ta cecha tego typu wyborów prowadzi jednak do rozdrobnienia ciał ustawodawczych. Aby zapobiec tym niekorzystnym zjawiskom, w wielu państwach stosuje się pewne ograniczenia zasady proporcjonalności.

Źródło: *Koncepcje systemów wyborczych*, „Opracowania Tematyczne 2010”, OT–578, Kancelaria Senatu: Biuro Analiz i Dokumentacji, Dział Analiz i Opracowań Tematycznych, s. 15, www.senat.gov.pl [dostęp: 1.10.2020].

12.1. Wyjaśnij, dlaczego w systemach parlamentarno-gabinetowych system proporcjonalny może prowadzić do niestabilności kolegialnego organu władzy wykonawczej (rządu).

.....

.....

.....

.....

12.2. Podaj przykład rozwiązania prawnego służącego osiągnięciu celu wskazanego w podkreślonym fragmencie tekstu.

.....

.....

.....

.....

Zadanie 13. (0–1)

O JEDNEJ Z ZASAD USTROJOWYCH

W prawie regulującym daniny publiczne ważne znaczenie posiada [...] pewność prawa i związana z nią zasada bezpieczeństwa prawnego. Pewność prawa oznacza nie tyle stabilność przepisów prawa, [...] co możliwość przewidywania działań organów państwa i związanych z nimi zachowań obywateli. Przewidywalność działań państwa gwarantuje zaufanie do ustawodawcy i do stanowionego przez niego prawa.

Źródło: *Orzeczenie Trybunału Konstytucyjnego z 2 marca 1993 r.*, www.prawo.money.pl [dostęp: 1.10.2020].

Podaj nazwę zasady konstytucyjnej, której realizacji służą reguły przedstawione w tekście.

.....

Wypełnia sprawdzający	Nr zadania	11.1	11.2	12.1	12.2	13
	Maks. liczba pkt	1	1	1	1	1
	Uzyskana liczba pkt					

Zadanie 14. (0–2)

PRZEPISY PRAWNE Z KONSTYTUCJI RZECZYPOSPOLITEJ POLSKIEJ

Art. 221

Inicjatywa ustawodawcza w zakresie ustawy budżetowej, ustawy o prowizorium budżetowym, zmiany ustawy budżetowej, ustawy o zaciąganiu długu publicznego oraz ustawy o udzielaniu gwarancji finansowych przez państwo przysługuje wyłącznie Radzie Ministrów.

Art. 222

Rada Ministrów przedkłada Sejmowi najpóźniej na 3 miesiące przed rozpoczęciem roku budżetowego projekt ustawy budżetowej na rok następny. W wyjątkowych przypadkach możliwe jest późniejsze przedłożenie projektu.

Art. 223

Senat może uchwalić poprawki do ustawy budżetowej w ciągu 20 dni od dnia przekazania jej Senatowi.

Art. 224

1. Prezydent Rzeczypospolitej podpisuje w ciągu 7 dni ustawę budżetową albo ustawę o prowizorium budżetowym przedstawioną przez Marszałka Sejmu. Do ustawy budżetowej i ustawy o prowizorium budżetowym nie stosuje się przepisu art. 122 ust. 5.
2. W przypadku zwrócenia się Prezydenta Rzeczypospolitej do Trybunału Konstytucyjnego w sprawie zgodności z Konstytucją ustawy budżetowej albo ustawy o prowizorium budżetowym przed jej podpisaniem, Trybunał orzeka w tej sprawie nie później niż w ciągu 2 miesięcy od dnia złożenia wniosku w Trybunale.

Art. 225

Jeżeli w ciągu 4 miesięcy od dnia przedłożenia Sejmowi projektu ustawy budżetowej nie zostanie ona przedstawiona Prezydentowi Rzeczypospolitej do podpisu, Prezydent Rzeczypospolitej może w ciągu 14 dni zarządzić skrócenie kadencji Sejmu.

Uzupełnij tabelę – w każdym z podanych aspektów podaj rozwiązanie ustrojowe obowiązujące przy uchwalaniu ustawy zwykłej, które różni się od rozwiązania przedstawionego w przytoczonych przepisach prawnych.

	Aspekt	Rozwiązanie ustrojowe
A.	Podmioty uprawnione do inicjatywy ustawodawczej	
B.	Moment wniesienia projektu ustawy	
C.	Uprawnienia Prezydenta RP	

Zadanie 15. (0–2)

FRAGMENT PISMA PROCESOWEGO [WNIOSKU]

[...]

Na podstawie art. 122 ust. 3 Konstytucji Rzeczypospolitej Polskiej wnoszę o zbadanie zgodności z Konstytucją ustawy z dnia 13 czerwca 2019 r. o zmianie ustawy – Kodeks karny oraz niektórych innych ustaw.

Ustawie tej zarzucam:

- I. w całości, niezgodność z art. 7 i art. 112 w związku z art. 119 ust. 1 Konstytucji,
- II. niezgodność art. 3, art. 8 pkt 6 i art. 13 z art. 7, art. 118 ust. 1, art. 119 ust. 1 i art. 121 ust. 2 Konstytucji przez to, że zakres uchwalonych przez Senat poprawek wykroczył poza materię ustawy uchwalonej przez Sejm [...].

UZASADNIENIE

W dniu 14 czerwca 2019 r. Marszałek Sejmu, na mocy art. 122 ust. 1 Konstytucji, przedstawił mi do podpisu ustawę z dnia 13 czerwca 2019 r. o zmianie ustawy – Kodeks karny oraz niektórych innych ustaw. Ustawa jest wynikiem prac legislacyjnych nad projektem zawartym w druku sejmowym nr 3451, przedłożonym Sejmowi przez Radę Ministrów w dniu 14 maja 2019 r. [...]

[Odręczny podpis] *Andrzej Duda*

Źródło: www.ipo.gov.pl [dostęp: 1.10.2020].

15.1. Na podstawie zamieszczonego wniosku oceń, czy poniższe informacje są prawdziwe. Zaznacz P, jeśli informacja jest prawdziwa, albo F – jeśli jest fałszywa.

1.	Podmiotem inicjującym postępowanie w przedstawionej sprawie jest Marszałek Sejmu Rzeczypospolitej Polskiej.	P	F
2.	Wniosek został skierowany do jednego z organów sprawujących wymiar sprawiedliwości w Rzeczypospolitej Polskiej.	P	F
3.	Zaprezentowany wniosek jest formą kontroli politycznej nad organami władzy wykonawczej w Rzeczypospolitej Polskiej.	P	F

15.2. Podaj dwie możliwe konsekwencje wydania orzeczenia w przedstawionej sprawie przez uprawniony do tego organ.

-
-

Wypełnia sprawdzający	Nr zadania	14	15.1	15.2
	Maks. liczba pkt	2	1	1
	Uzyskana liczba pkt			

Zadanie 16. (0–3)

ŹRÓDŁO 1. PRZEPISY PRAWNE Z KONSTYTUCJI RZECZYPOSPOLITEJ POLSKIEJ

Art. 90

1. Rzeczpospolita Polska może na podstawie umowy międzynarodowej przekazać organizacji międzynarodowej lub organowi międzynarodowemu kompetencje organów władzy państwowej w niektórych sprawach.
2. Ustawa wyrażająca zgodę na ratyfikację umowy międzynarodowej, o której mowa w ust. 1, jest uchwalana przez Sejm większością 2/3 głosów w obecności co najmniej połowy ustawowej liczby posłów oraz przez Senat większością 2/3 głosów w obecności co najmniej połowy ustawowej liczby senatorów.
3. Wyrażenie zgody na ratyfikację takiej umowy może być uchwalone w referendum ogólnokrajowym zgodnie z przepisem art. 125.
4. Uchwałę w sprawie wyboru trybu wyrażenia zgody na ratyfikację podejmuje Sejm bezwzględną większością głosów w obecności co najmniej połowy ustawowej liczby posłów.

ŹRÓDŁO 2. WYNIKI GŁOSOWANIA W SEJMIE W SPRAWIE WYBORU TRYBU WYRAŻENIA ZGODY NA RATYFIKACJĘ UMOWY MIĘDZYNARODOWEJ

Głosowało – 404
Za – 366
Przeciw – 16
Wstrzymało się – 22
Nie głosowało – 56

Źródło: www.orka.sejm.gov.pl [dostęp: 1.10.2020].

16.1. Rozstrzygnij, czy w przedstawionym głosowaniu Sejm RP przyjął uchwałę w sprawie wyboru trybu wyrażenia zgody na ratyfikację umowy międzynarodowej. Odpowiedź uzasadnij, odwołując się do wyników głosowania i przepisów Konstytucji RP.

Rozstrzygnięcie –

Uzasadnienie –

.....
.....
.....

16.2. Zaznacz poprawne dokończenie zdania.

W trybie określonym w art. 90 ust. 3 Konstytucji Rzeczypospolitej Polskiej ratyfikowano akt przystąpienia Polski do

- A. Organizacji Współpracy Gospodarczej i Rozwoju.
- B. Sojuszu Północnoatlantyckiego.
- C. Unii Europejskiej.
- D. Rady Europy.

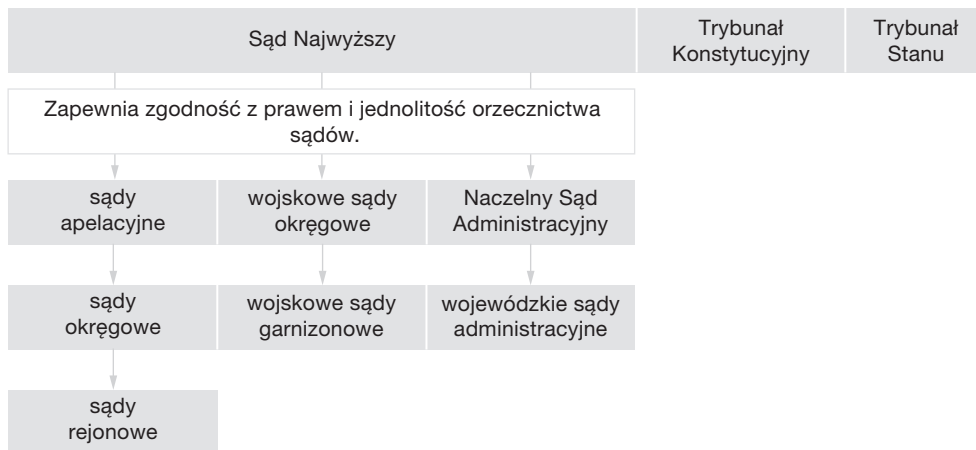
16.3. Zaznacz poprawne dokończenie zdania.

Wymóg zdefiniowany w podkreślonym fragmencie art. 90 ust. 4 jest określany jako

- A. exposé.
- B. kworum.
- C. konsensus.
- D. absolutorium.

Zadanie 17. (0–1)

SCHEMAT



Rozstrzygnij, czy zamieszczony schemat przedstawia współczesną strukturę sądownictwa w Polsce. Odpowiedź uzasadnij.

Rozstrzygnięcie –

Uzasadnienie –

.....
.....
.....

Wypełnia sprawdzający	Nr zadania	16.1	16.2	16.3	17
	Maks. liczba pkt	1	1	1	1
	Uzyskana liczba pkt				

Zadanie 18. (0–2)

FRAGMENT UCHWAŁY

Uchwała nr [...]
Składu Orzekającego [...]
w Warszawie
z dnia 19 września 2019 r.

w sprawie opinii o przedłożonej przez Wójta Gminy [...] informacji o przebiegu wykonania budżetu za pierwsze półrocze 2019 roku. [...]

Skład Orzekający [...] uchwala, co następuje:

§ 1

Pozytywnie opiniuje informację o przebiegu wykonania budżetu [...].

§ 2

Uzasadnienie stanowi integralną część uchwały.

§ 3

Od niniejszej uchwały służy odwołanie [...] w terminie 14 dni od dnia doręczenia uchwały.

Źródło: www.e-bip.pl [dostęp: 1.10.2020].

18.1. Podaj pełną nazwę organu, który wydał przytoczoną uchwałę.

18.2. Rozstrzygnij, czy z postanowienia zawartego w § 3 cytowanej uchwały wynika możliwość skierowania sprawy do wojewódzkiego sądu administracyjnego. Odpowiedź uzasadnij.

Rozstrzygnięcie –

Uzasadnienie –

Zadanie 19. (0–1)

FRAGMENT USTAWY OBOWIĄZUJĄCEJ W POLSCE

Art. 4.1. Zawód [...] polega na świadczeniu pomocy prawnej, a w szczególności na udzielaniu porad prawnych, sporządzaniu opinii prawnych, opracowywaniu projektów aktów prawnych oraz występowaniu przed sądami i urzędami.

Art. 4a.1. [Nazwa zawodu] wykonuje zawód w kancelarii [...], w zespole [...] oraz w spółce [...].

Art. 4b.1. [Nazwa zawodu] nie może wykonywać zawodu:

1) jeżeli pozostaje w stosunku pracy [...].

Źródło: Ustawa [...], Dz.U. z 1982 r. Nr 16, poz. 124 z późn. zm.

Podaj nazwę zawodu prawniczego scharakteryzowanego w przytoczonych przepisach.

Zadanie 20. (0–1)

UCHWAŁA NR XLIV/1264/18 RADY MIASTA SZCZECIN
z dnia 11 września 2018 r.

w sprawie wyborów uzupełniających ławników do Sądu Okręgowego w Szczecinie na kadencję lat 2016–2019

[...] Rada Miasta Szczecin uchwala, co następuje:

§ 1. W wyniku tajnego głosowania ławnikami Sądu Okręgowego w Szczecinie do orzekania z zakresu spraw cywilnych rodzinnych na kadencję lat 2016–2019 wybiera się osoby wymienione w załączniku stanowiącym integralną część niniejszej uchwały.

§ 2. Uchwała wchodzi w życie z dniem podjęcia.

Przewodnicząca Rady Miasta Szczecin

Źródło: www.bip.um.szczecin.pl [dostęp: 1.10.2020].

Na podstawie przytoczonego aktu prawnego oceń, czy poniższe informacje są prawdziwe. Zaznacz P, jeśli informacja jest prawdziwa, albo F – jeśli jest fałszywa.

1.	Przedstawioną decyzję podjął organ stanowiący i kontrolny gminy.	P	F
2.	Aby stać się źródłem prawa miejscowego, przytoczony dokument musi zostać opublikowany w Dzienniku Ustaw Rzeczypospolitej Polskiej.	P	F
3.	Decyzja podjęta w zacytowanej uchwale służy realizacji konstytucyjnej zasady udziału obywateli w sprawowaniu wymiaru sprawiedliwości.	P	F

Zadanie 21. (0–2)

PRZEPISY PRAWNE Z KODEKSÓW OBOWIĄZUJĄCYCH W POLSCE

Przepis 1. Art. 627. Przez umowę o dzieło przyjmujący zamówienie zobowiązuje się do wykonania oznaczonego dzieła, a zamawiający do zapłaty wynagrodzenia.

Przepis 2. Art. 3. Pracodawcą jest jednostka organizacyjna, choćby nie posiadała osobowości prawnej, a także osoba fizyczna, jeżeli zatrudniają one pracowników.

Przepis 3. Art. 31. § 1. Z chwilą zawarcia małżeństwa powstaje między małżonkami z mocy ustawy wspólność majątkowa [...]. [...]

§ 2. Do majątku wspólnego należą w szczególności: 1) pobrane wynagrodzenie za pracę [...].

Źródła: Dz.U. z 1964 r. Nr 16, poz. 93; Dz.U. z 1974 r. Nr 24, poz. 141; Dz.U. z 1964 r. Nr 9, poz. 59.

Do każdego przepisu prawnego dopisz nazwę kodeksu, w którym został on zamieszczony.

Przepis 1. –

Przepis 2. –

Przepis 3. –

Wypełnia sprawdzający	Nr zadania	18.1	18.2	19	20	21
	Maks. liczba pkt	1	1	1	1	2
	Uzyskana liczba pkt					

Zadanie 22. (0–1)

FRAGMENT KODEKSU POSTĘPOWANIA KARNEGO

Art. 519. Od prawomocnego wyroku sądu odwoławczego kończącego postępowanie oraz od prawomocnego postanowienia sądu odwoławczego o umorzeniu postępowania i zastosowaniu środka zabezpieczającego określonego w art. 93a Kodeksu karnego może być wniesiona [...].

Źródło: Dz.U. z 1997 r. Nr 89, poz. 555.

Zaznacz poprawne dokończenie zdania.

Środek odwoławczy, o którym mowa w cytowanym fragmencie kodeksu, to

- A. skarga kasacyjna.
- B. zażalenie.
- C. apelacja.
- D. kasacja.

Zadanie 23. (0–2)

PRZEPISY PRAWNE Z KONSTYTUCJI RZECZYPOSPOLITEJ POLSKIEJ

Przepis 1. Każdy zatrzymany powinien być niezwłocznie i w sposób zrozumiały dla niego poinformowany o przyczynach zatrzymania. Powinien on być w ciągu 48 godzin od chwili zatrzymania przekazany do dyspozycji sądu.

Przepis 2. Każdemu zapewnia się wolność wyrażania swoich poglądów oraz pozyskiwania i rozpowszechniania informacji.

Przepis 3. Obywatel ma prawo do zabezpieczenia społecznego w razie niezdolności do pracy ze względu na chorobę lub inwalidztwo oraz po osiągnięciu wieku emerytalnego.

23.1. Uzupełnij tabelę. Do każdego przepisu Konstytucji RP dopisz właściwą nazwę kategorii praw człowieka i numer generacji, do których należy przedstawione w nim prawo.

	Kategoria praw człowieka	Numer generacji praw człowieka
Przepis 1.		
Przepis 2.		
Przepis 3.		

23.2. Podaj nazwę prawa, którego przestrzeganie zagwarantowano w przepisie oznaczonym numerem 1.

.....

Zadanie 24. (0–2)

FRAGMENT MAPY POLITYCZNEJ EUROPY



O PAŃSTWACH W EUROPIE

Opis A. To państwo w 2019 roku zakończyło trwający od lat spór z Grecją. Ceną za dobre relacje była zmiana nazwy kraju.

Opis B. To państwo, którego zasady ustrojowe określono w porozumieniu z Dayton, kończącym kilkuletnią wojnę. Jego Prezydium tworzą przedstawiciele trzech narodów konstytutywnych.

Opis C. To państwo od 2004 roku stanowi element tzw. wschodniej flanki NATO. Żyje w nim liczna mniejszość węgierska, w tym mieszkający we wschodnim Siedmiogrodzie Seklerzy.

Do każdego opisu dopisz nazwę właściwego państwa i numer, którym oznaczono je na mapie.

	Nazwa państwa	Numer na mapie
Opis A.		
Opis B.		
Opis C.		

Wypełnia sprawdzający	Nr zadania	22	23.1	23.2	24
	Maks. liczba pkt	1	1	1	2
	Uzyskana liczba pkt				

Zadanie 25. (0–1)

ŹRÓDŁO 1. RELACJA Z OBRAD JEDNEJ Z INSTYTUCJI UNII EUROPEJSKIEJ



21.02.2020 r.

W Brukseli rozpoczął się drugi dzień negocjacji w sprawie budżetu na lata 2021–2027. Wczoraj wieczorem [...] Charles Michel przerwał rozmowy plenarne, by przeprowadzić dwustronne rozmowy z unijnymi przywódcami na temat nowych propozycji.

Źródło: www.premier.gov.pl [dostęp: 2.10.2020].

ŹRÓDŁO 2. O JEDNEJ Z INSTYTUCJI UNII EUROPEJSKIEJ

Rola: reprezentuje głos rządów krajów UE, przyjmuje akty prawne UE i koordynuje politykę UE.

Członkowie: ministrowie ze wszystkich krajów UE, w zależności od omawianego obszaru polityki.

Prezydencja: każdy kraj UE sprawuje prezydencję przez 6 miesięcy na zasadzie rotacji.

Rok ustanowienia: 1958 [...].

Siedziba: Bruksela (Belgia).

Źródło: www.europa.eu [dostęp: 2.10.2020].

Rozstrzygnij, czy oba materiały źródłowe dotyczą tej samej instytucji Unii Europejskiej. Odpowiedź uzasadnij, odnosząc się do zamieszczonych materiałów.

Rozstrzygnięcie –

Uzasadnienie –

.....

.....

.....

Zadanie 26. (0–1)

O ZMIANACH W FUNKCJONOWANIU INSTYTUCJI EUROPEJSKICH – KOMUNIKAT PRASOWY Z 13 CZERWCA 2018 R.

Parlament Europejski zmniejszy się z 751 do 705 posłów, [...] zostawiając miejsce na potencjalne przyszłe rozszerzenia.

Poza zmniejszeniem rozmiaru Parlamentu, z 751 do 705 posłów, proponowana redystrybucja miejsc, przyjęta przez Parlament Europejski w środę, umieściłaby 46 z 73 miejsc zwolnionych [...] w rezerwie. Część lub wszystkie 46 miejsc z rezerwy mogłyby zostać następnie przydzielone nowym krajom przystępującym do UE lub zachowane w celu utrzymania mniejszego rozmiaru PE. Pozostałe 27 brytyjskich miejsc zostałyby rozdzielone pomiędzy 14 krajów UE, które obecnie są nieznacznie niedoreprezentowane.

Źródło: www.europarl.europa.eu [dostęp: 2.10.2020].

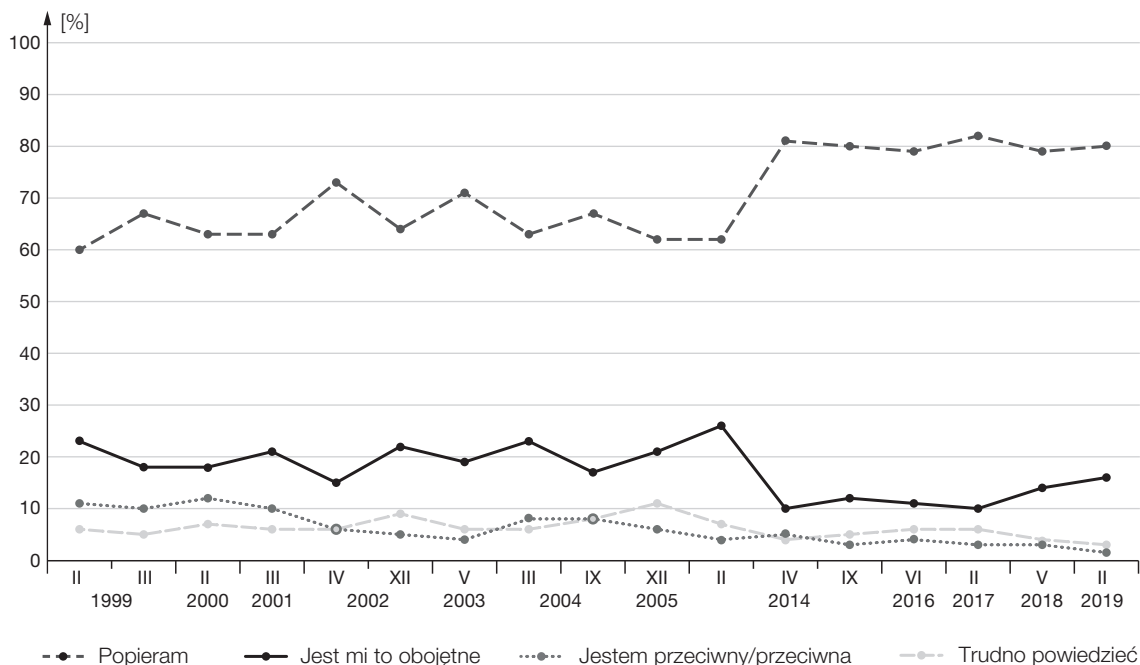
Podaj przyczynę zmian w funkcjonowaniu Parlamentu Europejskiego opisanych w tekście.

.....

.....

Zadanie 27. (0–1)

POLACY WOBEC PRZYNALEŻNOŚCI POLSKI DO NATO. WYNIKI BADAŃ CBOS



Źródło: 20 lat członkostwa Polski w NATO. Komunikat z badań, CBOS, Warszawa 2019, s. 6, www.cbos.pl [dostęp: 2.10.2020].

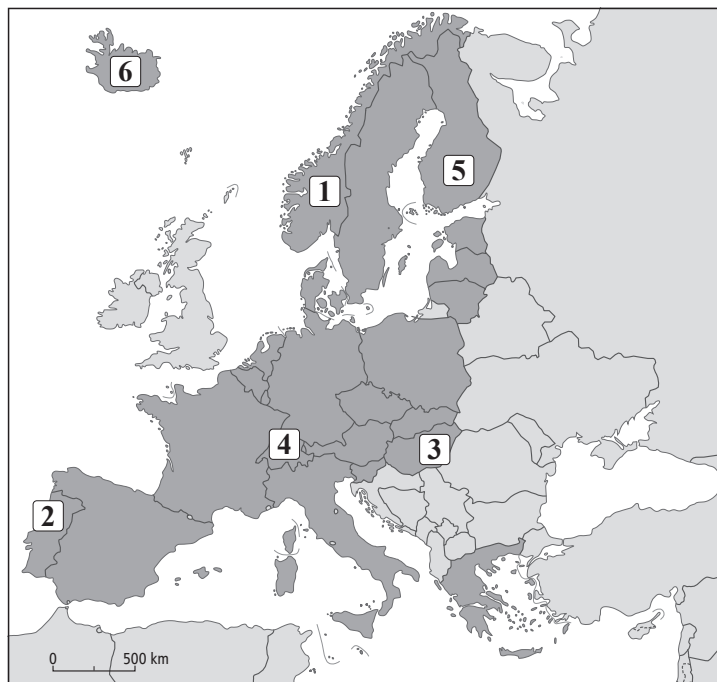
Na podstawie danych z wykresu oceń, czy poniższe informacje są prawdziwe. Zaznacz P, jeśli informacja jest prawdziwa, albo F – jeśli jest fałszywa.

1.	W lutym 2014 r. odsetek respondentów deklarujących obojętność wobec faktu przynależności Polski do NATO był o 33% niższy niż odsetek zwolenników polskiego członkostwa w Sojuszu.	P	F
2.	W całym badanym okresie odsetek zwolenników przynależności Polski do Sojuszu był wyższy niż łączny odsetek respondentów wskazujących pozostałe opcje.	P	F
3.	W badaniach przeprowadzonych od lutego 2000 r. do kwietnia 2014 r. pięciokrotnie najrzadziej wybierano odpowiedź: „Jestem przeciwny/przeciwna” [przynależności Polski do NATO].	P	F

Wypełnia sprawdzający	Nr zadania	25	26	27
	Maks. liczba pkt	1	1	1
	Uzyskana liczba pkt			

Zadanie 28. (0–2)

PAŃSTWA BĘDĄCE W STREFIE SCHENGEN



Podaj nazwy trzech państw należących do strefy Schengen, ale niebędących członkami Unii Europejskiej, oraz numery, którymi oznaczono je na mapie.

Nazwa państwa	Numer na mapie

Zadanie 29. (0–1)

O JEDNEJ Z ORGANIZACJI EUROPEJSKICH

- [...] [To] najstarsza organizacja międzyrządowa na kontynencie europejskim [...].
- Jej członkowie, w tym Polska – od 1991 r. – zobowiązali się zagwarantować wszystkim znajdującym się pod ich jurysdykcją korzystanie z praw człowieka i podstawowych wolności.
- „Perłą w koronie” systemu konwencyjnego [...] [organizacji] stała się Europejska Konwencja o Ochronie Praw Człowieka i Podstawowych Wolności. To dzięki Konwencji Europa stała się strefą wolną od kary śmierci. To Europejski Trybunał Praw Człowieka w tysiącach orzeczeń ukazał naruszenia prawa i dysfunkcje instytucji państwa.

Źródło: www.rpo.gov.pl [dostęp: 2.10.2020].

Podaj nazwę organizacji, której dotyczy zamieszczony tekst.

.....

Zadanie 30. (0–2)

FRAGMENT ŹRÓDŁA PRAWA UNII EUROPEJSKIEJ

DECYZJA RADY 2019/1341 z dnia 8 sierpnia 2019 r.

aktualizująca listę osób, grup i podmiotów objętych art. 2, 3 i 4 wspólnego stanowiska 2001/931/WPZiB w sprawie zastosowania szczególnych środków w celu zwalczania terroryzmu [...]

[...]

Artykuł 1

Lista osób, grup i podmiotów, do których mają zastosowanie art. 2, 3 i 4 wspólnego stanowiska 2001/931/WPZiB, zamieszczona jest w załączniku do niniejszej decyzji.

[...]

ZAŁĄCZNIK

[...]

2. „Al-Aqsa Martyrs' Brigade” („Brygady Męczenników Al-Aksy”). [...]
13. „Kurdistan Workers' Party” – „PKK” („Partia Pracujących Kurdystanu”). [...]
16. „Palestinian Islamic Jihad” – „PIJ” („Palestyński Islamski Dżihad”). [...]
20. „Sendero Luminoso” – „SL” („Świetlisty Szlak”) [...].

Źródło: www.eur-lex.europa.eu [dostęp: 2.10.2020].

30.1. Oceń, czy poniższe informacje dotyczące przytoczonego źródła prawa są prawdziwe. Zaznacz P, jeśli informacja jest prawdziwa, albo F – jeśli jest fałszywa.

1.	Postanowienia zacytowanego dokumentu są wiążące dla podmiotów, do których został on skierowany.	P	F
2.	Przytoczony dokument stanowi część tzw. prawa pierwotnego Unii Europejskiej.	P	F
3.	Podjęta decyzja jest jednym ze sposobów realizacji przez Unię Europejską wspólnej polityki zagranicznej i bezpieczeństwa.	P	F

30.2. Podaj nazwę organizacji wymienionej w przytoczonym dokumencie, która nie dąży do osiągnięcia celów politycznych na Bliskim Wschodzie.

.....

Wypełnia sprawdzający	Nr zadania	28	29	30.1	30.2
	Maks. liczba pkt	2	1	1	1
	Uzyskana liczba pkt				

Zadanie 31. (0–1)

O POROZUMIENIU ZAWARTYM PRZEZ USA

Tekst 1.

Afgański rząd nie zobowiązał się do uwolnienia 5000 talibskich więźniów, jak jest to ujęte w porozumieniu podpisanym przez Stany Zjednoczone i talibskich bojowników islamskich – oświadczył w niedzielę prezydent Afganistanu Aszraf Ghani. Żądanie talibów uwolnienia więźniów z afgańskich zakładów karnych nie może być warunkiem wstępnym do bezpośrednich rozmów władz w Kabulu z tą radykalną grupą – powiedział Ghani na konferencji prasowej w afgańskiej stolicy. Sobotnie porozumienie między USA i talibami m.in. głosi, że obie strony są zobowiązane do szybkich działań na rzecz uwolnienia bojowników i więźniów politycznych jako środka budowy zaufania, przy koordynacji i aprobacie wszystkich stron, których to dotyczy. [...]

W kwestii wymiany jeńców Ghani zastrzegł, że „to nie władze Stanów Zjednoczonych będą o tym decydowały”. „One są tylko pomocnikiem” – zauważył.

Źródło: *Prezydent Afganistanu...*, www.gazetaprawna.pl [dostęp: 2.10.2020].

Tekst 2.

Porozumienie w Katarze podpisali 29 lutego wysłannik [prezydenta] Trumpa ds. Afganistanu Zalmay Khalilzad oraz szef delegacji talibskiej mułła Ghani Baradar. Ceremonii przyglądał się sekretarz stanu USA Mike Pompeo i delegaci z blisko 30 państw. Stroną tej umowy nie jest nieuznawany przez talibów afgański rząd.

Oficjalnie mowa o „porozumieniu w sprawie zaprowadzenia pokoju w Afganistanie”. Ale droga do pokoju jest jeszcze daleka. Najważniejsze ustalenia dotyczą dat i warunków wycofania obcych wojsk. Strony zobowiązują się uwolnić jeńców, a talibowie mają zostać usunięci z listy organizacji terrorystycznych ONZ. Jeśli wszystko dobrze pójdzie, za 14 miesięcy nie będzie w Afganistanie żadnego zagranicznego żołnierza. [...] Gdy Amerykanie będą się pakować, talibowie zaczną przygotowania do przejęcia władzy w Kabulu. Zagranicznym wrogom od lat zresztą powtarzają: „wy macie zegarki, ale my mamy czas”. Ich czas właśnie nadszedł. Umowa legitymizuje organizację uznawaną dotąd za terrorystyczną, odpowiedzialną za śmierć tysięcy zagranicznych żołnierzy, afgańskich wojskowych i cywilów.

Źródło: P. Kugiel, *Porozumienie z talibami...*, www.polityka.pl [dostęp: 2.10.2020].

Uzasadnij tezę, że przyjęte porozumienie nie gwarantuje stabilności wewnętrznej w Afganistanie. Podaj dwa argumenty.

-
-

Zadanie 32. (0–1)

O DZIAŁANIACH JEDNEJ Z WYSPECJALIZOWANYCH AGEND ORGANIZACJI NARODÓW ZJEDNOCZONYCH

Międzynarodowy Dzień Języka Ojczystego obchodzony jest od roku 2000. Proklamowany został na 30. sesji Konferencji Generalnej [nazwa organizacji] z inicjatywy Bangladeszu. Główną ideą obchodów jest podkreślenie znaczenia różnorodności językowej dla ochrony różnorodności kulturowej świata, a także dla rozwoju zrównoważonego społeczeństw.

Hasło obchodów Dnia w roku 2020 „Języki bez granic” [...] podkreśla znaczenie języków lokalnych, często wspólnych dla społeczności po obu stronach granicy, dla budowania pokojowych relacji między nimi, a także dla ochrony wspólnego dziedzictwa kulturowego.

Źródło: www.[...].pl [dostęp: 2.10.2020].

Zaznacz poprawne dokończenie zdania.

W tekście przedstawiono działanie podjęte przez

A. FAO.

B. ILO.

C. UNICEF.

D. UNESCO.

Wypełnia sprawdzający	Nr zadania	31	32
	Maks. liczba pkt	1	1
	Uzyskana liczba pkt		

Zadanie 33. (0–12)

Wybierz jeden spośród podanych tematów i napisz wypracowanie.

Temat 1.

Porównaj relacje między rządem a głową państwa we Francji, w Wielkiej Brytanii i w Polsce. Uwzględnij pozycję ustrojową wymienionych organów, zakres ich kompetencji wykonawczych oraz możliwości ich wzajemnego oddziaływania. Odwołaj się do materiałów źródłowych.

Materiały źródłowe

A. PRZEPISY PRAWNE Z KONSTYTUCJI REPUBLIKI FRANCUSKIEJ

Artykuł 8

Prezydent Republiki powołuje premiera. Decyzję o odwołaniu go z funkcji podejmuje w wyniku złożenia przez premiera dymisji rządu.

Na wniosek premiera powołuje innych członków rządu i ich odwołuje. [...]

Artykuł 21

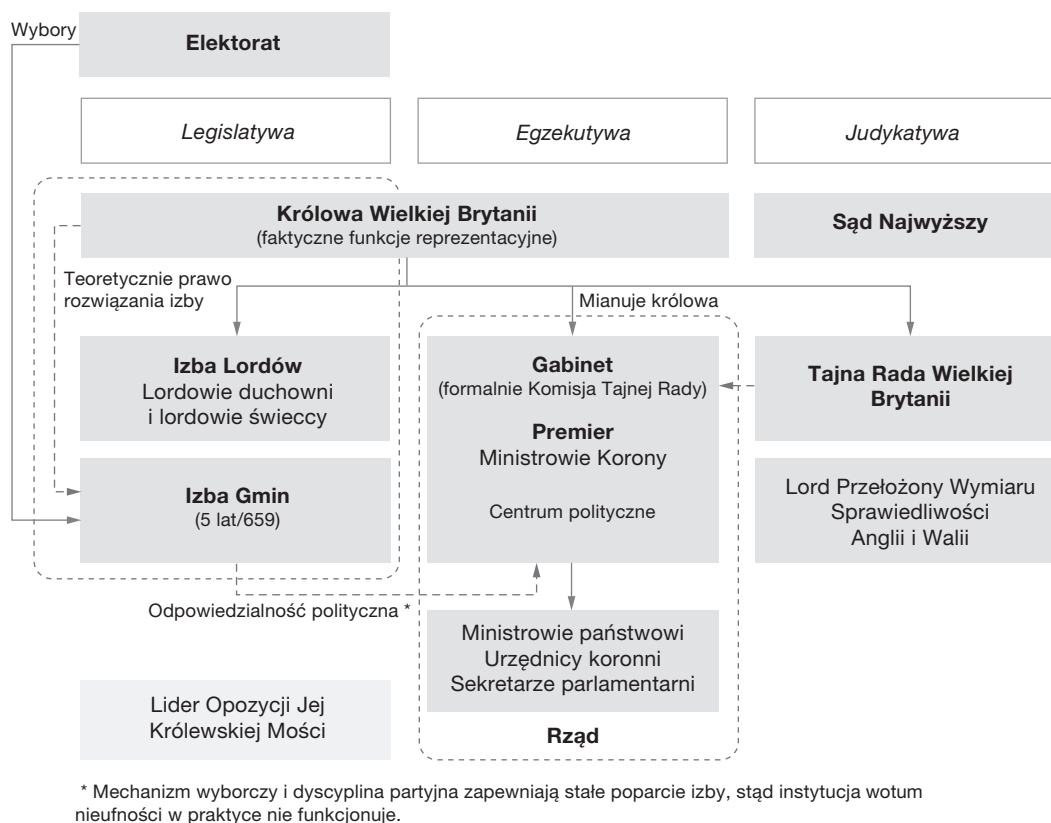
Premier kieruje działalnością rządu. Ponoś odpowiedzialność za obronę narodową. Zapewnia wykonanie ustaw. Z zastrzeżeniem postanowień art. 13 sprawuje władzę reglamentacyjną i obsadza stanowiska cywilne i wojskowe. Niektóre swoje uprawnienia może przekazać ministrom.

Zastępuje, w określonych przypadkach, Prezydenta Republiki w przewodniczeniu radom i komitetom przewidzianym w art. 15.

W drodze wyjątku może przewodniczyć w zastępstwie Prezydenta Republiki Radzie Ministrów na podstawie wyraźnego upoważnienia i przy określonym porządku dziennym.

Źródło: www.libr.sejm.gov.pl [dostęp: 2.10.2020].

B. SCHEMAT. SYSTEM WŁADZY ZJEDNOCZONEGO KRÓLESTWA WIELKIEJ BRYTANII I IRLANDII PÓŁNOCNEJ



Źródło: *Współczesne systemy rządów*, t. 2, red. naukowa: K.A. Wojtaszczyk, W. Jakubowski, P. Załęski, [w:] *Spółczesność i polityka. Podstawy nauk politycznych*, red. naukowa: K.A. Wojtaszczyk, W. Jakubowski, Warszawa 2017, s. 207.

Temat 2.

Scharakteryzuj funkcje mass mediów w państwach demokratycznych. Przedstaw wybrane współczesne media: tygodnik społeczno-polityczny, portal internetowy oraz stację telewizyjną lub radiową o zasięgu ogólnopolskim, odnosząc się do pełnionych przez nie funkcji i określając właściwe dla nich krąg odbiorców, orientację ideologiczną oraz typ własności.

Temat 3.

Na wybranych przykładach scharakteryzuj współczesne procesy globalizacyjne w aspektach politycznym, społeczno-ekonomicznym i kulturowym. Przedstaw dwa najważniejsze wyzwania wynikające dla Europy z procesu globalizacji. Uzasadnij swój wybór.

Wypełnia sprawdzający	Nr zadania	33
	Maks. liczba pkt	12
	Uzyskana liczba pkt	

BRUDNOPIS (*nie podlega ocenie*)